

N° D'ORDRE : ____

N° FASE : ____

N° CLASSE : ____



FÉDÉRATION
WALLONIE-BRUXELLES
ENSEIGNEMENT.BE

ÉPREUVE EXTERNE COMMUNE

CEB2020

ÉVEIL - FORMATION HISTORIQUE ET GÉOGRAPHIQUE

LIVRET 5 | VENDREDI 19 JUIN



NOM : _____

PRÉNOM : _____

CLASSE : _____

... /60

L'ATLAS

QUESTION 1

Voici la table des matières d'un atlas.

	page(s)		page(s)
BELGIQUE		Population	14
Belgique politique		Voies de communication	
Régions	1	Routes	15
Communautés	1	Chemin de fer	16
Provinces	2	Voies navigables	16
Belgique physique		MONDE	
Relief	3	Monde politique	17-18
Hydrographie	4	Monde physique	
Utilisation du sol	5	Continents & océans	19-20
Climat	5	Relief	21
Population	6	Grands cours d'eau	22
Voies de communication		Milieux naturels	23
Routes	6	Climat	24
Chemin de fer	7	Population	
Voies navigables	7	Densité	25
EUROPE		Grandes villes	26
Europe physique		Migrations	26
Relief	8-9	Richesse	26
Cours d'eau	10	Utilisation du sol	
Europe politique		Principaux gisements	27
Union européenne	11-12	Réserves de pétrole	28
Zone euro	13	Fuseaux horaires	29

Tu cherches des informations dans cet atlas. Pour chaque recherche, **ÉCRIS** le numéro de la (des) page(s) où tu trouveras la carte utile.

/3

Informations recherchées	Page(s)
Quelles chaînes de montagnes se trouvent en France ?	
Quel type de climat trouve-t-on en Amérique du Sud ?	
Puis-je payer en euros en Croatie ?	


LES PÉRIODES CONVENTIONNELLES

QUESTION


2




Gravure représentant un atelier d'imprimerie (16^e siècle)



Capsule Apollo de retour de sa mission vers la Lune (20^e siècle)



Casque celte (4^e siècle avant J.-C.)



Extrait de la tapisserie de Bayeux (broderie) représentant l'attaque d'un château* (11^e siècle)

* Château-motte de Dinan, France

a) Chaque image illustre une période historique conventionnelle.

ÉCRIS le nom des périodes manquantes pour les images A et D.

/2

- Image A : _____
- Image B : *Époque contemporaine*
- Image C : *Antiquité*
- Image D : _____

b) **Parmi les propositions ci-dessous, COCHE** un évènement marquant de l'Antiquité.

/1

- La découverte des Amériques par Christophe Colomb
- L'invention de l'imprimerie par Gutenberg
- La Première Guerre mondiale
- L'arrivée des Romains dans nos régions
- Les premières peintures rupestres

DES GRANDES DÉCOUVERTES TECHNIQUES ET GÉOGRAPHIQUES

QUESTION

3




En 1769, **James WATT** (1736-1819) apporte des améliorations essentielles à la machine à vapeur qui sera utilisée dans les usines.



En 1538, **Gérard MERCATOR** (1512-1594) propose une première carte du monde.

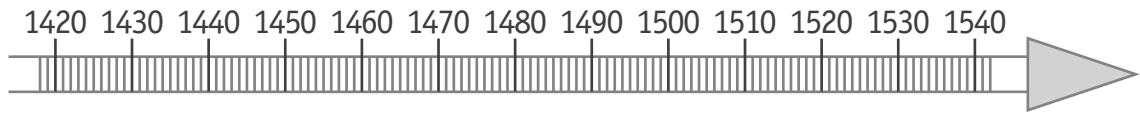


En 1492, **Christophe COLOMB** (1451-1506) découvre les Amériques.

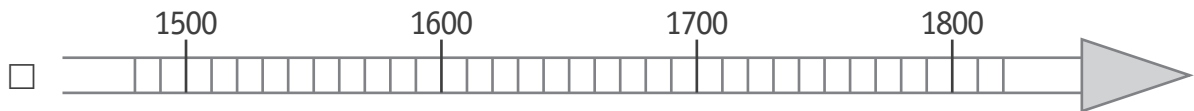
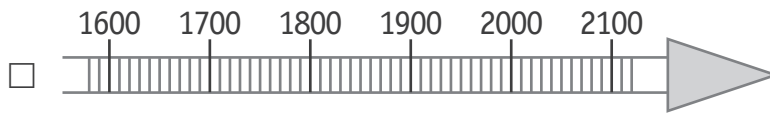
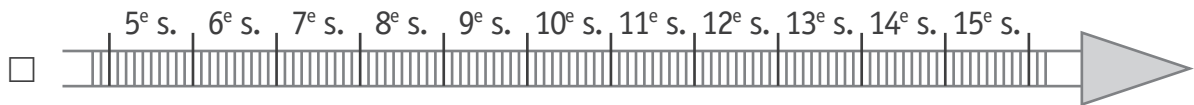


Vers 1487, **Léonard de VINCI** (1452-1519) dessine « La vis aérienne » (l'ancêtre de notre hélicoptère).


- a) Sur la ligne du temps suivante, **COLORIE** avec précision la représentation de la durée de vie de Léonard de Vinci. /1



- b) **COCHE** la ligne du temps sur laquelle tu peux situer les 4 dates des découvertes. /1



- c) Sur la ligne du temps suivante, **COLORIE** la période historique conventionnelle au cours de laquelle sont apparues ces découvertes. /1



- d) **ÉCRIS** le nom de cette période historique conventionnelle. /1

e) **ENTOURE** VRAI ou FAUX.

/3

Léonard de Vinci a pu rencontrer Christophe Colomb.	VRAI	FAUX
Gérard Mercator et James Watt ont vécu au cours du même siècle.	VRAI	FAUX
James Watt est mort au 19 ^e siècle.	VRAI	FAUX

LE PATRIMOINE EN WALLONIE ET À BRUXELLES

QUESTION 4



P. 1 à 7

Dans chaque case, **ÉCRIS** le mot de la liste qui convient.

/3

Monument | Peinture | Sculpture | Document écrit | Graphique

	Nature de la trace du passé photographiée
<p>Trougnouf (Benot Brummer) / Wikimedia Commons</p> 	
<p>FALKENSTEINFOTO / Alamy Stock Photo</p> 	
<p>Fondation Folon-Adagp</p> 	

LE PATRIMOINE EN WALLONIE ET À BRUXELLES

QUESTION

5



P. 1

a) **COCHE** la réponse correcte.

/2

Le théâtre de marionnettes liégeoises se situe plutôt...

- au nord du musée Folon.
- au sud du musée Folon.
- à l'ouest du musée Folon.
- à l'est du musée Folon.

Pour aller de l'Atomium à Binche, on prendra la direction...

- du nord.
- du sud.
- de l'ouest.
- de l'est.



P. 1

b) **ÉCRIS** le nom du pays limitrophe* de la Belgique qui est **le plus proche** de l'abbaye d'Orval.

/1

* Pays limitrophe : pays voisin, qui a des frontières communes



c) **COCHE** vrai ou faux et **COCHE** la (les) carte(s) qui te permet(tent) de répondre.

On peut aller...	Vrai - Faux	Carte(s) qui permet(tent) de l'affirmer
en car, de Bruxelles à Liège par l'autoroute A27.	<input type="checkbox"/> vrai <input type="checkbox"/> faux	<input type="checkbox"/> carte 1 <input type="checkbox"/> carte 2
en train, de Liège à Dinant, en passant par Namur.	<input type="checkbox"/> vrai <input type="checkbox"/> faux	<input type="checkbox"/> carte 1 <input type="checkbox"/> carte 2
en train, ou en car par l'autoroute, de Charleroi à Liège.	<input type="checkbox"/> vrai <input type="checkbox"/> faux	<input type="checkbox"/> carte 1 <input type="checkbox"/> carte 2

LIÈGE, VILLE WALLONNE

QUESTION 6



P. 10

a) Quels sont les documents qui te permettent de faire les observations suivantes ?

TRACE une croix dans les cases qui conviennent.

/3

	Document A	Document B	Document C
Une ligne de chemin de fer a été construite au sud de la Meuse.			
Le cimetière de Robermont se situe au sud de Bressoux.			
La surface entre Liège et Jupille était peu bâtie au 18 ^e siècle.			



P. 10

b) Observe le document A.

ENTOURE les **deux caractéristiques** dominantes de ce lieu.

/2

Ce lieu est...

rural | urbain | peu humanisé | très humanisé



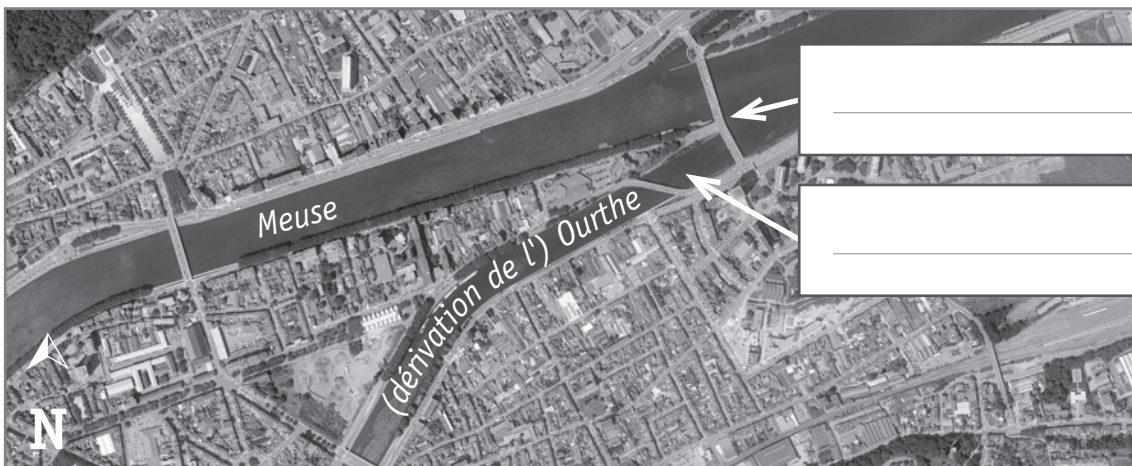
P. 10

c) L'Ourthe se jette dans la Meuse à Liège.

ÉCRIS dans l'étiquette correspondante : affluent et confluent.

/2

Tu peux te servir de ton dictionnaire.



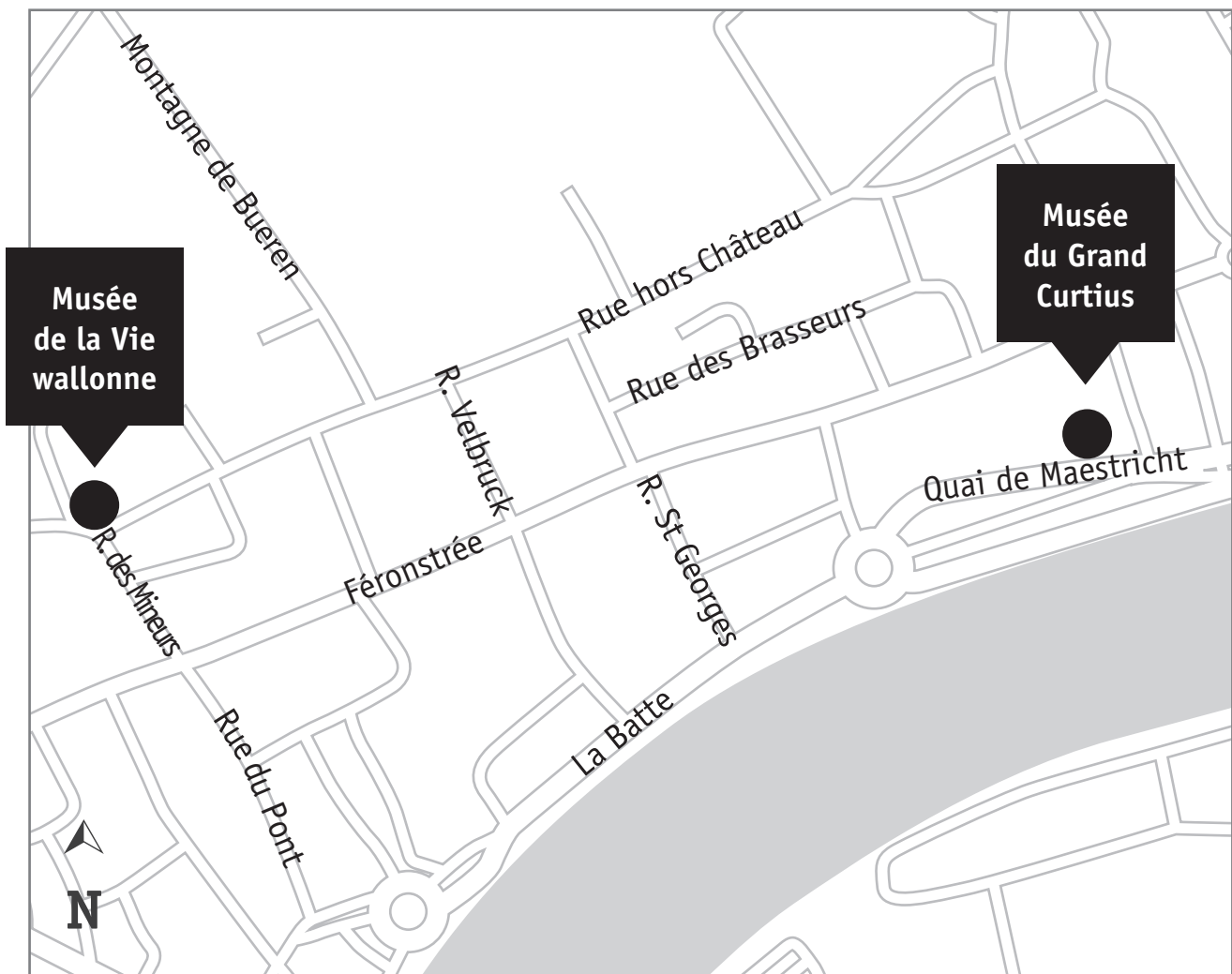
d) Dans Liège, des élèves se rendent du Musée de la Vie wallonne au Musée du Grand Curtius.

Voici l'itinéraire qu'ils suivent :

- rue des Mineurs ;
- 2^e rue à gauche ;
- 2^e rue à droite ;
- 1^{re} rue à gauche ;
- tout droit jusqu'au rondpoint, sortie Quai de Maestricht ;
- arrivée au Grand Curtius.

TRACE leur trajet en vert sur le plan.

/1




UNE ABBAYE

QUESTION

7

Voici une vue aérienne des ruines de l'abbaye de Villers-la-Ville.

Les bâtiments sont numérotés.

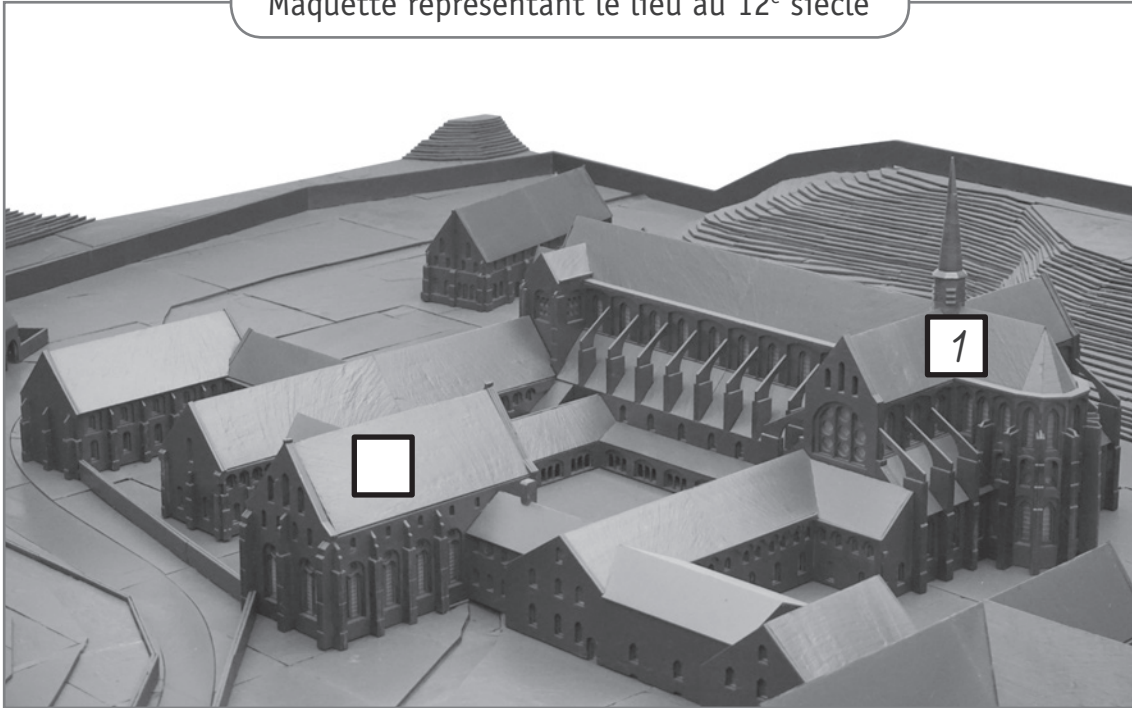


- 1 L'église abbatiale
- 2 Le cloître
- 3 La brasserie
- 4 Le palais abbatial
- 5 Le réfectoire
- 6 La salle des moines

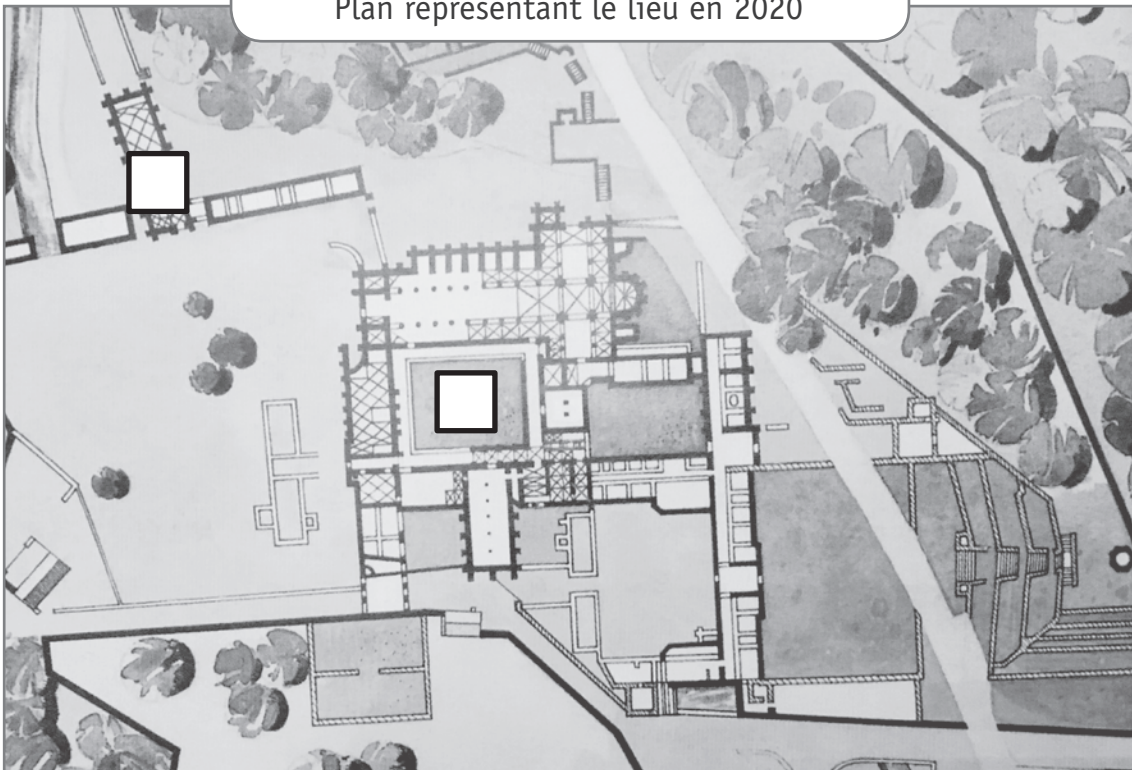
Compare la photo aérienne, la maquette et le plan.

RECOPIE, dans les étiquettes blanches de la maquette et du plan, les numéros correspondants de la photo aérienne des ruines. /3

Maquette représentant le lieu au 12^e siècle



Plan représentant le lieu en 2020



UNE RUE À DES ÉPOQUES DIFFÉRENTES

QUESTION 8



P. 11

Observe les deux photos d'une même rue de Courcelles.

COCHE la ou les cases qui convient / conviennent pour chaque information.

/5

Quelle(s) photo(s) permet(tent) de le voir ?	La photo ancienne	La photo récente	Aucune photo
L'Homme se déplace grâce à des véhicules tirés par des animaux.			
La rue est équipée d'éclairage public.			
Des emplacements sont réservés au stationnement des automobiles.			
La rue présente une zone pour les piétons.			
Le nom de la rue a changé.			

DES CARNAVALS EN EUROPE ET DANS LE MONDE

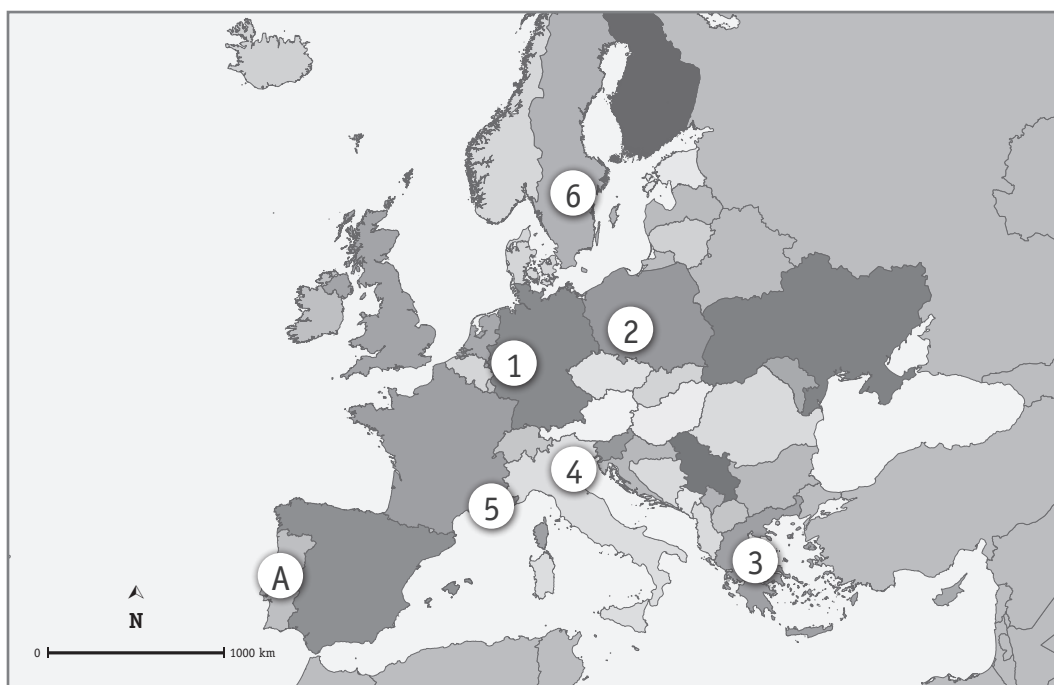
QUESTION 9

En Europe, plusieurs carnivals célèbres se déroulent tous les ans.

Par exemple :

- le carnaval de Venise en Italie ;
- le carnaval de Cologne en Allemagne ;
- le carnaval de Nice en France.

Observe la carte d'Europe.



a) **ÉCRIS** le numéro qui situe...

/3

le carnaval de Nice.	N° ___
le carnaval de Cologne.	N° ___
le carnaval de Venise.	N° ___

b) **ÉCRIS** le nom du pays désigné par la lettre **A**.

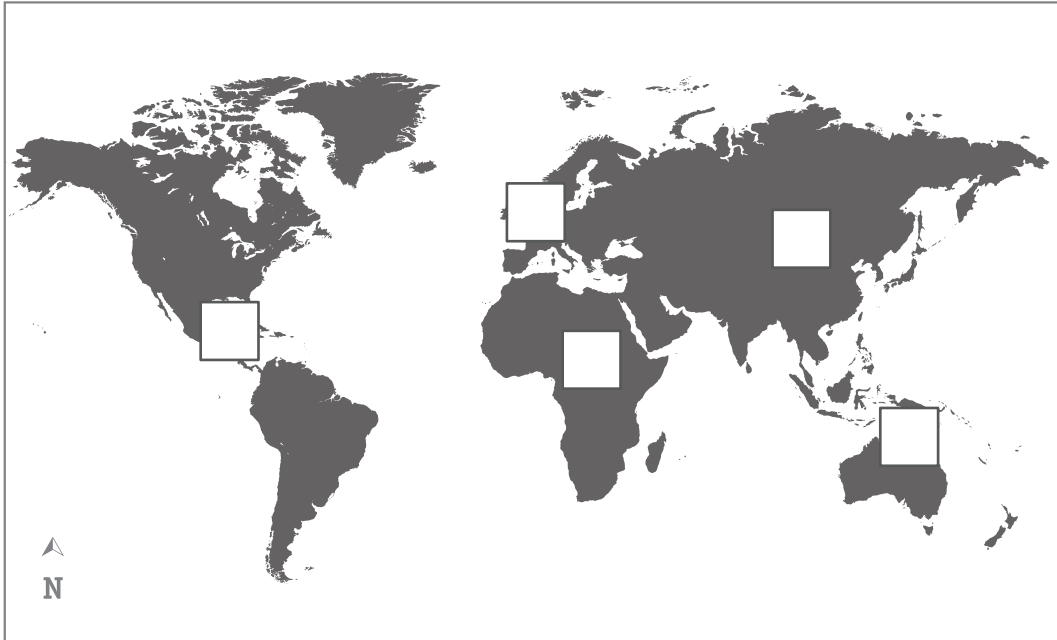
/1

Il existe des carnivals sur d'autres continents : en Amérique, en Asie, en Afrique...

c) Sur le planisphère suivant, **situe** l'Amérique et l'Asie.

ÉCRIS 1 pour Amérique et 2 pour Asie dans les étiquettes correspondantes.

/2



d) Sur le planisphère suivant, **situe** l'Asie et l'Afrique.

ÉCRIS 2 pour Asie et 3 pour Afrique dans les étiquettes correspondantes.

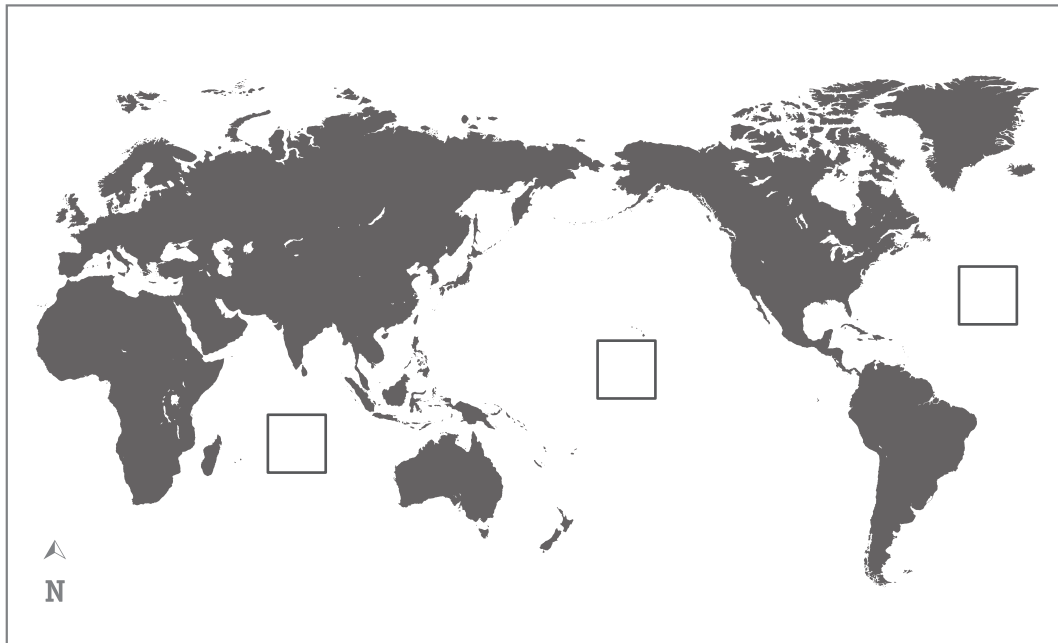
/2



e) Sur le planisphère suivant, **ÉCRIS** dans les étiquettes qui conviennent :

/2

- **A** pour l'océan Atlantique ;
- **P** pour l'océan Pacifique.



UN CYCLE DE VIE

QUESTION

10



P. 16

Le calendrier ci-dessous représente les périodes de reproduction d'animaux sauvages de notre région.

	Juil.	Aout	Sept.	Oct.	Nov.	Déc.	Jan.	Fév.	Mars	Avril	Mai	Juin
Cerf			■	■							■	■
Chevreuril	■	■								■	■	■
Daim				■	■							■
Sanglier					■	■	■		■	■		
Mouflon				■	■					■		

■ Périodes d'accouplement

■ Périodes de mise bas (naissance des petits)

a) **ÉCRIS** le nom d'un animal qui peut s'accoupler en janvier.

/1

b) **ÉCRIS** le nom de l'animal dont la durée de gestation* est la plus longue.

/1

c) Combien de temps la gestation du Cerf dure-t-elle ?

COCHE la réponse correcte.

/1

- Environ 8 mois
- Environ 8 semaines
- Environ 6 mois

* Gestation : période pendant laquelle le(s) petit(s) se développe(nt) à l'intérieur du corps de la femelle.

UNE TRACE DU PASSÉ

QUESTION

11



P. 12

Observe ce document.

a) **COCHE** la réponse correcte.

/1

Le document est...

- une reproduction d'un monument.
- une photographie.
- un document audiovisuel original.
- un document audiovisuel reconstitué.
- un document écrit original.
- un document écrit reconstitué.



P. 12

b) À quelle date le document a-t-il été diffusé au public ?

/1

ÉCRIS.

JOUR

MOIS

ANNÉE



P. 12

c) **COCHE** l'évènement marquant au cours duquel le document a été diffusé.

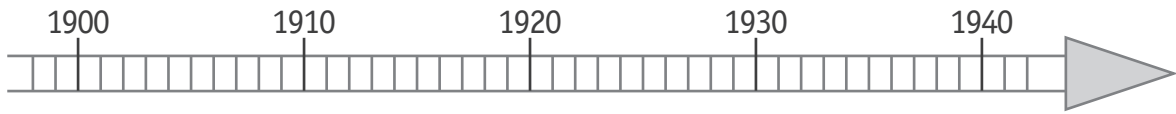
/1

- Le premier homme dans l'espace
- La signature du Traité de Rome
- La Première Guerre mondiale
- La Seconde Guerre mondiale
- L'indépendance de la Belgique



d) **COLORIE** sur la ligne du temps la période des années de naissance des personnes concernées par le document.

/1



Voici une zone de travail pour effectuer tes démarches



e) Pour chaque affirmation, **COCHE** la colonne qui convient.

	Je l'ai lu dans le document	Je ne l'ai pas lu dans le document mais je peux le déduire	Je ne l'ai pas lu dans le document et je ne peux pas le déduire
Jean, élève de 6 ^e primaire, ne doit pas partir.			
Pour se rendre à Erquelinnes, le transport en train est gratuit pour les personnes concernées par l'avis.			
Les hommes mesurant moins de 1 m 70 ne sont pas concernés par cet avis.			
Le ministre de la Défense en 1940 s'appelle Monsieur Denis.			
Gérard, qui a 34 ans, ne doit pas se rendre à Erquelinnes.			



**Fédération Wallonie-Bruxelles / Ministère
Administration générale de l'Enseignement**

Avenue du Port, 16 – 1080 BRUXELLES

www.fw-b.be – 0800 20 000

Impression : Snel Grafics - info@snel.be

Graphisme : Olivier VANDEVILLE - olivier.vandeville@cfwb.be

Juin 2020

Le Médiateur de la Wallonie et de la Fédération Wallonie-Bruxelles

Rue Lucien Namèche, 54 – 5000 NAMUR

0800 19 199

courrier@mediateurcf.be

Éditeur responsable : Quentin DAVID, Directeur général

La « Fédération Wallonie-Bruxelles » est l'appellation désignant usuellement la « Communauté française » visée à l'article 2 de la Constitution